


Villafranca

3 aprile 2020


TEST DI MUSICA.

Assegna a ciascuna nota la sua durata e il nome che le abbiamo dato per riconoscerla (aiutati con gli spazi che indicano il numero delle lettere).



Quanti movimenti? _____.

Nome: La nota a palla con
la _____.



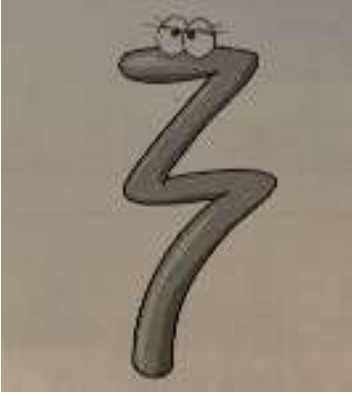
Quanti movimenti? _____.

Nome: Le _____.




Quanti movimenti? _____.

Nome: La _____.



Nome: La _ _ _ _ _.



Quanti movimenti? _____.

Nome: La _ _ _ _ _.