

MATEMATICA lunedì 4 maggio

Ciao bambini,

per il lavoro che faremo domani dobbiamo fare un piccolo gioco ripasso delle misure di valore: gli EURO.

Completa queste schede (se non hai la possibilità di stamparle crea 2 tabelle, su una colonna scrivi il numero indicato nelle banconote senza fare il disegno e nell'altra colonna scrivi il totale di euro che vedi come ho fatto io nell'esempio)






Calcola il totale delle seguenti somme:

	€
	€
	€
	€

Esempio tabella per chi non può stampare

50€ 50€ 5€ 5€ 5€	€165

Calcola il totale delle seguenti somme:

	€
	€
	€
	€
	€

Calcola con la prova

- ☀ Pag 160 es 4 b (moltiplicazione)
- ☀ Pag 160 es 4 a (divisione, quella con due cifre toglie la decina al divisore come facevamo a scuola così diventa a una cifra)

IMPORTANTISSIMO

Domani alla video lezione porta con te il quaderno di matematica e astuccio, affronteremo insieme un nuovo argomento, quindi ti servirà molta concentrazione.