

CIAO BAMBINI, ECCO LE SOLUZIONI DEGLI ESERCIZI DI LUNEDÌ 09 MARZO 2020:

AGGIUNGO IL NUMERO NECESSARIO PER FORMARE UNA DECINA

$$4 + 6 = 1 \text{ da} \quad 10 + 0 = 1 \text{ da}$$

$$8 + 2 = 1 \text{ da} \quad 5 + 5 = 1 \text{ da}$$

$$7 + 3 = 1 \text{ da} \quad 7 + 3 = 1 \text{ da}$$

$$9 + 1 = 1 \text{ da} \quad 6 + 4 = 1 \text{ da}$$

**RICOPIO I NUMERI IN ORDINE DECRESCENTE
(DAL MAGGIORE AL MINORE)**

2 – 3 – 4 – 7 – 9

0 – 2 – 4 – 6 – 7

0 – 1 – 5 – 8 – 10

3 – 5 – 8 – 9 – 10

**RICOPIO I NUMERI IN ORDINE DECRESCENTE
(DAL MAGGIORE AL MINORE)**

10 – 7 – 3 – 2 – 0

9 – 8 – 5 – 3 – 1

10 – 6 – 4 – 2 – 1

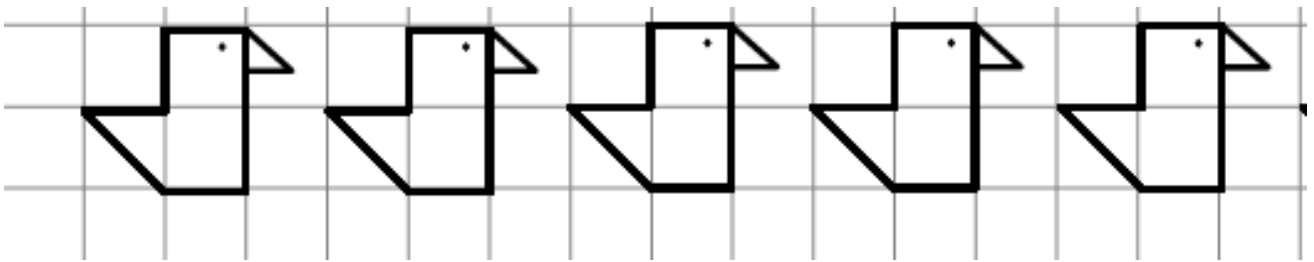
9 – 8 – 7 – 3 – 0

**ORA CHE AVETE CONTROLLATO GLI ESERCIZI POTETE INIZIARE CON IL LAVORO DI OGGI SUL
QUADERNO.... BUON LAVORO!
UN ABBRACCIO VIRTUALE A TUTTI!!!!**


VILAFRANCA

10 MARZO 2020

OGGI È MARTEDÌ

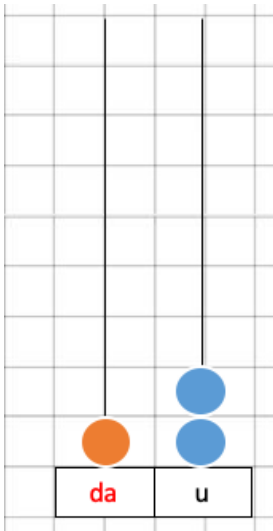


I NUMERI DALL'11 AL 15 SULL'ABACO



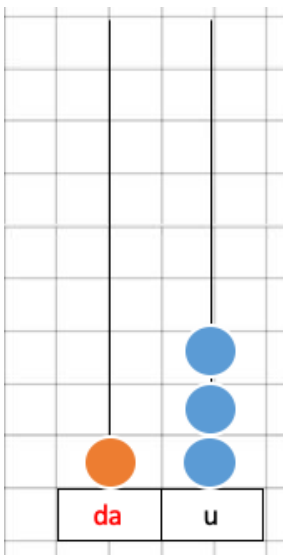
da	u
1	1

1 da e 1 u



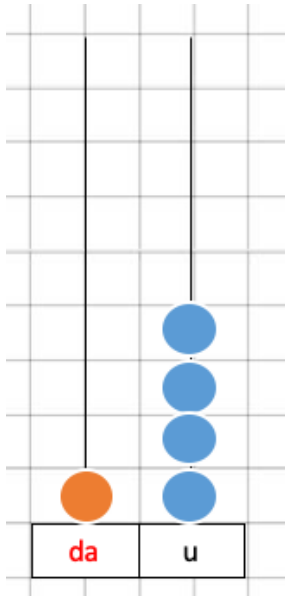
da	u
1	2

1 da e 2 u



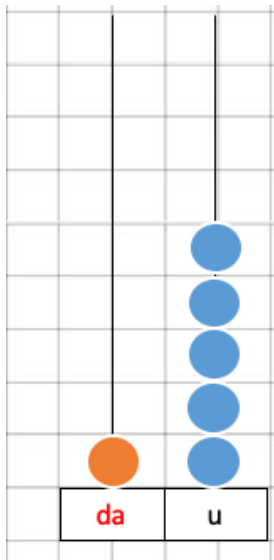
da	u
1	3

1 da e 3 u



da	u
1	4

1 da e 4 u



da	u
1	5

1 da e 5 u

OBIETTIVO: IMPARARE I NUMERI DALL'11 AL 15 QUANTIFICANDOLI SULL'ABACO