

25 MARZO 2020

CIAO BAMBINI,

DI SEGUITO TROVATE LE CORREZIONI DEGLI ESERCIZI CHE DOVEVATE SVOLGERE LA SCORSA SETTIMANA (PAGINA 158 E 159 DEL LIBRO VERDE CHIARO).

PER OGGI INVECE VI CHIEDO DI INIZARE UN NUOVO LAVORO SUL QUADERNO... MA PRIMA GUARDATE LA **VIDEOLEZIONE INTITOLATA '**LA MIA CASA**'.**

NEI MESI SCORSI ABBIAMO PARLATO DEGLI SPAZI, E CI SIAMO SOFFERMATI SULLO SPAZIO DELLA NOSTRA SCUOLA.

OGGI INVECE INIZIEREMO A PARLARE DI UNO SPAZIO MOLTO FAMILIARE, LA NOSTRA CASA, CHE OGGI PIU' CHE MAI E' LA NOSTRA TANA IN CUI CI FACCIAMO COCCOLARE DALLA MAMMA E DAL PAPA'!

**BUON LAVORO!
UN ABBRACCIO E TANTI TANTI BACI**

MAESTRA PAOLA

AUTOCORREZIONE ESERCIZI DEL 18 MARZO 2020

GEOGRAFIA

PERCORSI

POSSO ATTRAVERSAI SOLO SULLE STRISCE





1 OSSERVA, POI SEGUI LE INDICAZIONI:

- DISEGNA IL PERCORSO CHE ANNA FA PER ANDARE DA CASA (★) A SCUOLA (▲).
- DISEGNA IL PERCORSO CHE ANNA FA PER ANDARE DALLA SCUOLA (▲) ALLA PISCINA (◈).

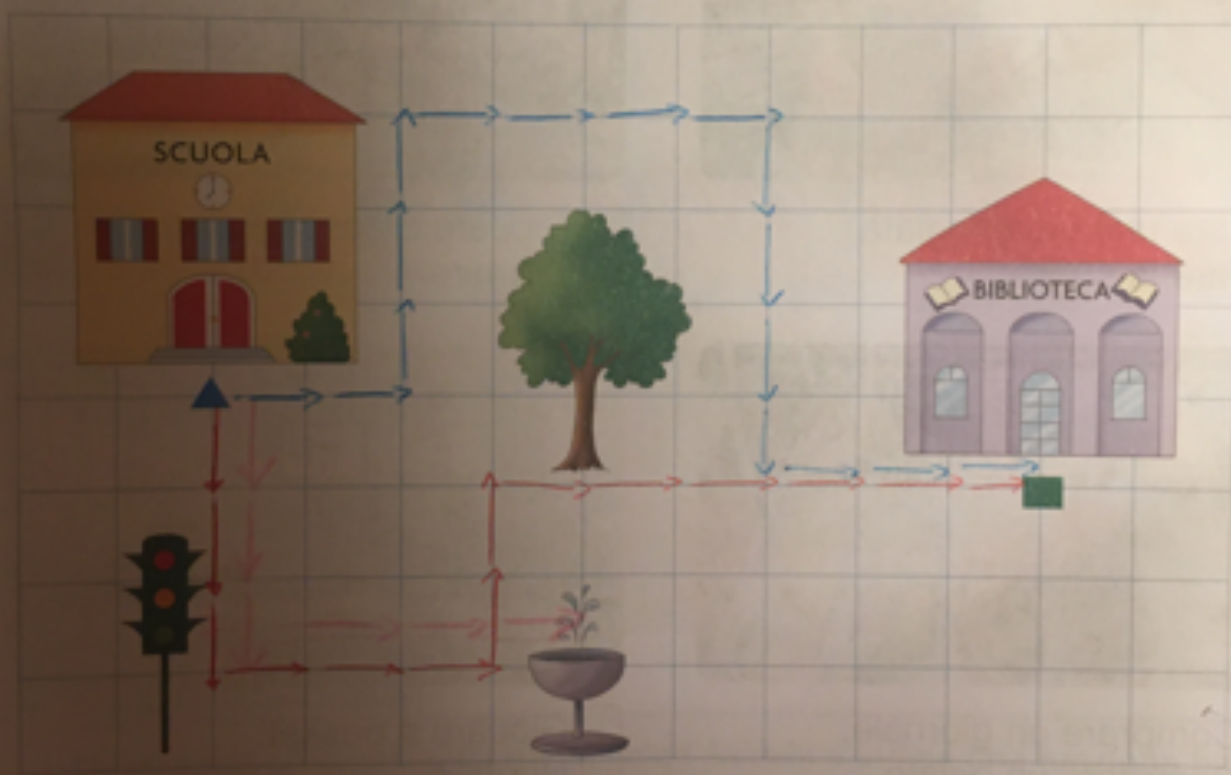
2 ORA ORDINA I NEGOZI CHE ANNA INCONTRA LUNGO IL PRIMO PERCORSO. CANCELLA L'INTRUSO E NUMERA DA 1 A 4.

The image shows a worksheet for a geography exercise. At the top left, the word 'GEOGRAFIA' is written in a red box. The main title is 'PERCORSI'. Below it, there are instructions in Italian. A speech bubble from a girl says 'POSSO ATTRAVERSAI SOLO SULLE STRISCE'. The main part of the worksheet is a map of a town with various buildings. A path is drawn from a house (marked with a star) to a school (marked with a triangle) and then to a pool (marked with a hexagon). Below the map, there are five shop icons: 'FIORISTA', 'BAR', 'GELATI', 'GIORNALI', and 'IPER'. The 'IPER' shop is crossed out with a large 'X'. The other shops are numbered in boxes: 'FIORISTA' is 2, 'BAR' is 3, 'GELATI' is 1, and 'GIORNALI' is 4.


3 LEGGI LE INDICAZIONI E TRACCIA IN ROSSO IL PERCORSO CHE ABDUL DEVE FARE PER ANDARE DALLA SCUOLA (▲) ALLA BIBLIOTECA (■).

 1 PASSO IN SU
 1 PASSO IN GIÙ
 1 PASSO A DESTRA
 1 PASSO A SINISTRA

- FAI 3 ↓ E ARRIVI AL 
- FAI 3 → E ARRIVI ALLA 
- FAI 2 ↑ E ARRIVI ALL' 
- FAI 6 → E ARRIVI ALLA 



4 ELISA SCEGLIE UN PERCORSO DIVERSO PER ANDARE DALLA SCUOLA (▲) ALLA BIBLIOTECA (■). TRACCIA IN BLU IL PERCORSO DI ELISA: SEGUI LE INDICAZIONI.



VILLAFRANCA

25 MARZO 2020

OGGI È MERCOLEDÌ



(salta un quadretto)

GLI SPAZI DELLA CASA

LA MIA CASA E' UN

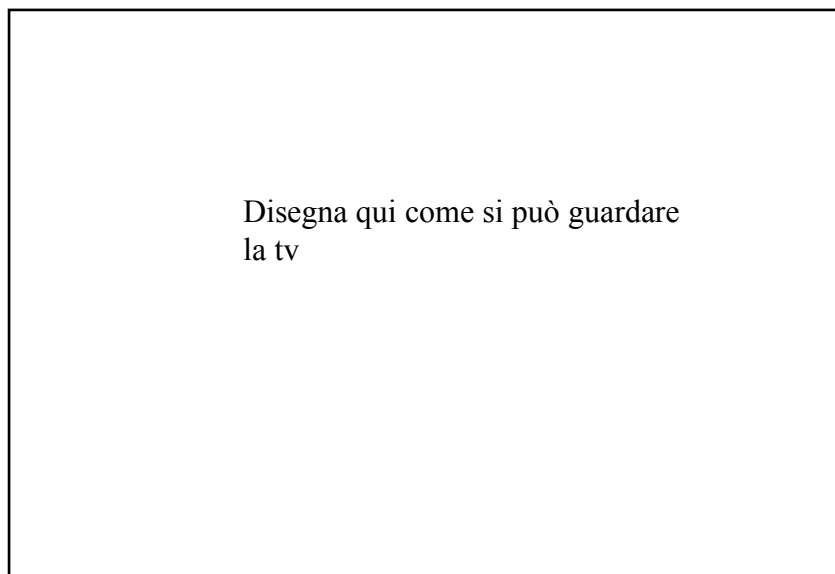
AMBIENTE **FAMILIARE**

Disegna in questa pagina
la tua casa

MI COMPORTO BENE A CASA

QUANDO GUARDO LA TV
MI SIEDO BENE E NON
TROPPO VICINO ALLO
SCHERMO

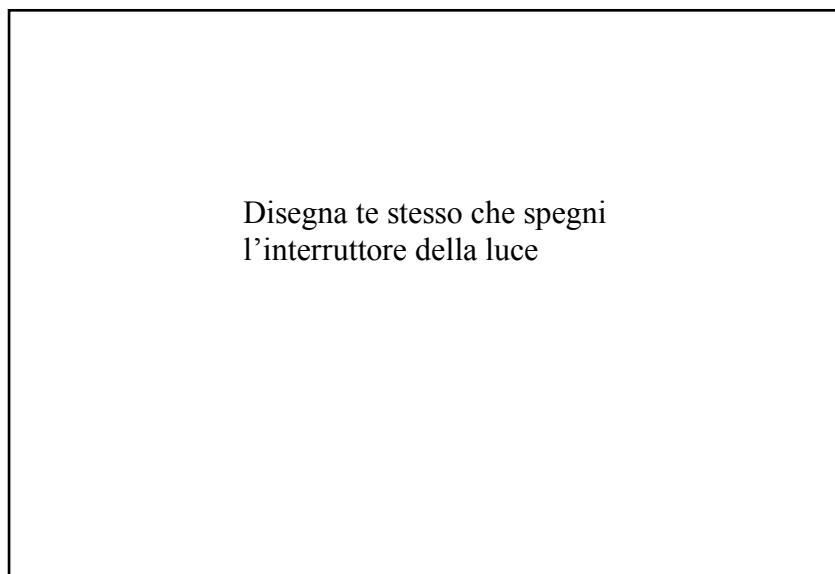
(salta un quadretto e disegna un rettangolo largo 12 e alto 7)



(salta 1 quadretto)

QUANDO ESCO DA UNA
CAMERA SPENGO SEMPRE
LA LUCE

(salta un quadretto e disegna un rettangolo largo 12 e alto 7)



OBIETTIVO: INTRODURRE LO 'SPAZIO' CASA CON LE SUE REGOLE